



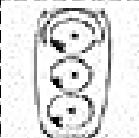




















Guia 1 Ciencias Naturales

Los Sentidos

Objetivo: Identificar y ubicar la función de los sentidos

- **Recorta y pega** lo que podemos percibir con cada uno de los sentidos.

| | | | |
|--|----------------------|---|---|
|  <p>VISTA</p> | <input type="text"/> |  |  |
|  <p>OÍDO</p> | <input type="text"/> |  |  |
|  <p>TACTO</p> | <input type="text"/> |  |  |
|  <p>GUSTO</p> | <input type="text"/> |  |  |
|  <p>OLFATO</p> | <input type="text"/> |  |  |
| | |  |  |
| | |  |  |
| | |  |  |
| | |  |  |

Mapas de Memoria Nº 10 - Página 12 de 12